


NUKA – EN DRENG I SYDGRØNLAND SIDE 4

- Se på et kort over Qaqortoq. Find Eqalugaarsuit. Tegn tre sejlruiter fra Eqalugaarsuit til Qaqortoq.
- Hvorfor tror du de måtte sejle i den yderste rute, da de skulle til påsketurnering?



EN SÆLSOM BOLD SIDE 7

- Læs de første 4 linjer i bogen side 7. Skriv dem i nutid:

I dag **bruger** man i Grønland en udstoppet sæl og ...

Læs mere om "Kalattoorneq", grønlandsk fodbold i gamle dage. Se kilderne bagerst i denne bog.

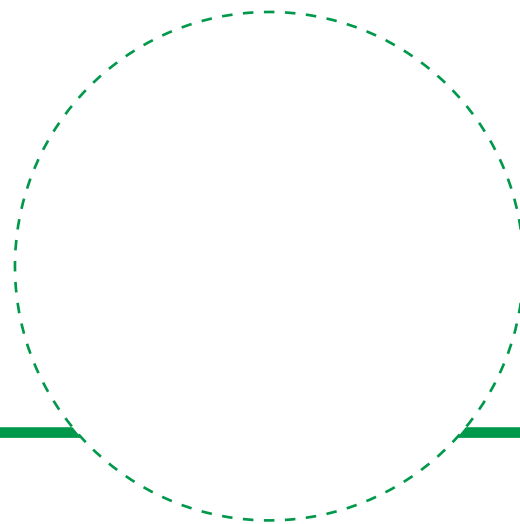


FODBOLDKLUBBER I GRØNLAND SIDE 14

- Skriv navnet på den fodboldklub/de fodboldklubber, der er i din by/bygd.

- Hvor mange medlemmer er der?

- Tegn logoet eller find det på internettet.
Skriv det ud og lim det på.



GM – GRØNLANDSMESTRE SIDE 16

- Hvilken klub har været grønlandsmestre flest gange?

- Hvor mange forskellige klubber har været grønlandsmestre?

- Hvilke klubber har kun været grønlandsmestre en gang?

- Hvilken klub, der har været grønlandsmester, eksisterer ikke længere?



LANDSKAMPE SIDE 19

TIL LÆREREN

Dette er både en informationssøgningsopgave og en kommunikativ opgave. Eleverne skal først søge forskellige informationer og derefter spørge hinanden, således at de til sidst hver har 2 ens kort.

1. Eleverne sidder to og to og får udleveret et ark hver. Elev A Side 4, og elev B side 5. De må ikke kigge hos hinanden.
2. De skal have læst s. 19 i bogen.
3. Først skal de finde øer og lande på nederste kort. Nogle kan findes i atlas, andre er så små, at de bedst kan findes på internettet.
4. Derefter spørges der om, hvor øerne og landene på de øverste kort ligger.

ORDFORRÅD

- "Hvor ligger?" Eleverne skal lære "ligger" i geografisk betydning. De kender måske kun ligger i betydningerne; "ligger i sengen" eller "ligger på bordet".
- ud for
- i nærheden af
- ved siden af
- mellem
- øst for – vest for – nord for – syd for.

EKSEMPEL

Elev B: *Hvor ligger Zanzibar?*

Elev A: *I Afrika.*

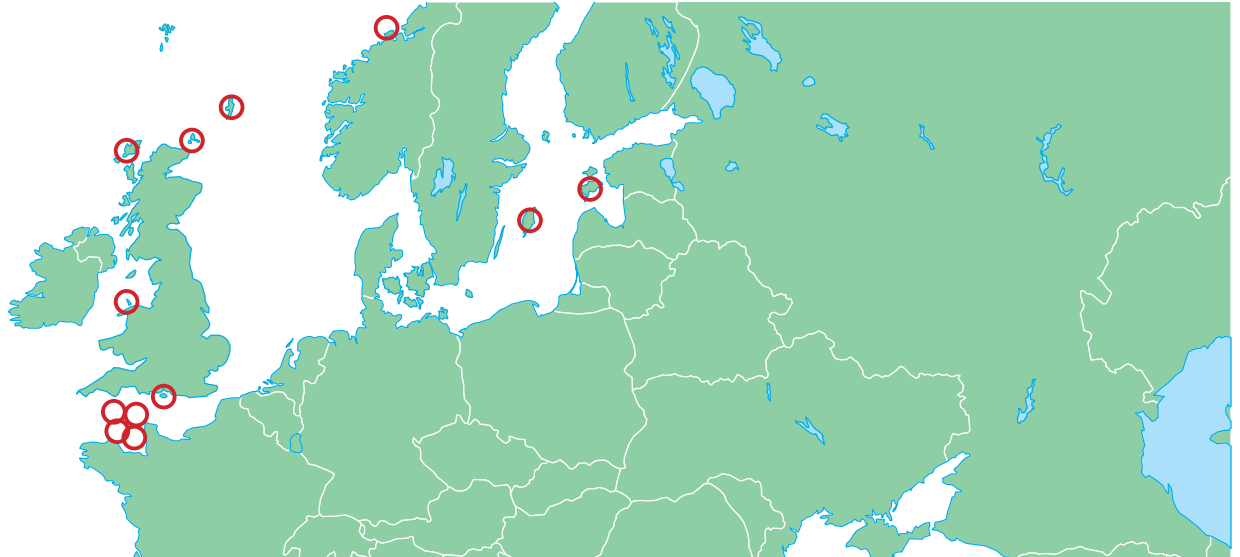
Elev B: *Hvor i Afrika?*

Elev A: *Ud for Tanzania. Det er en ø.*

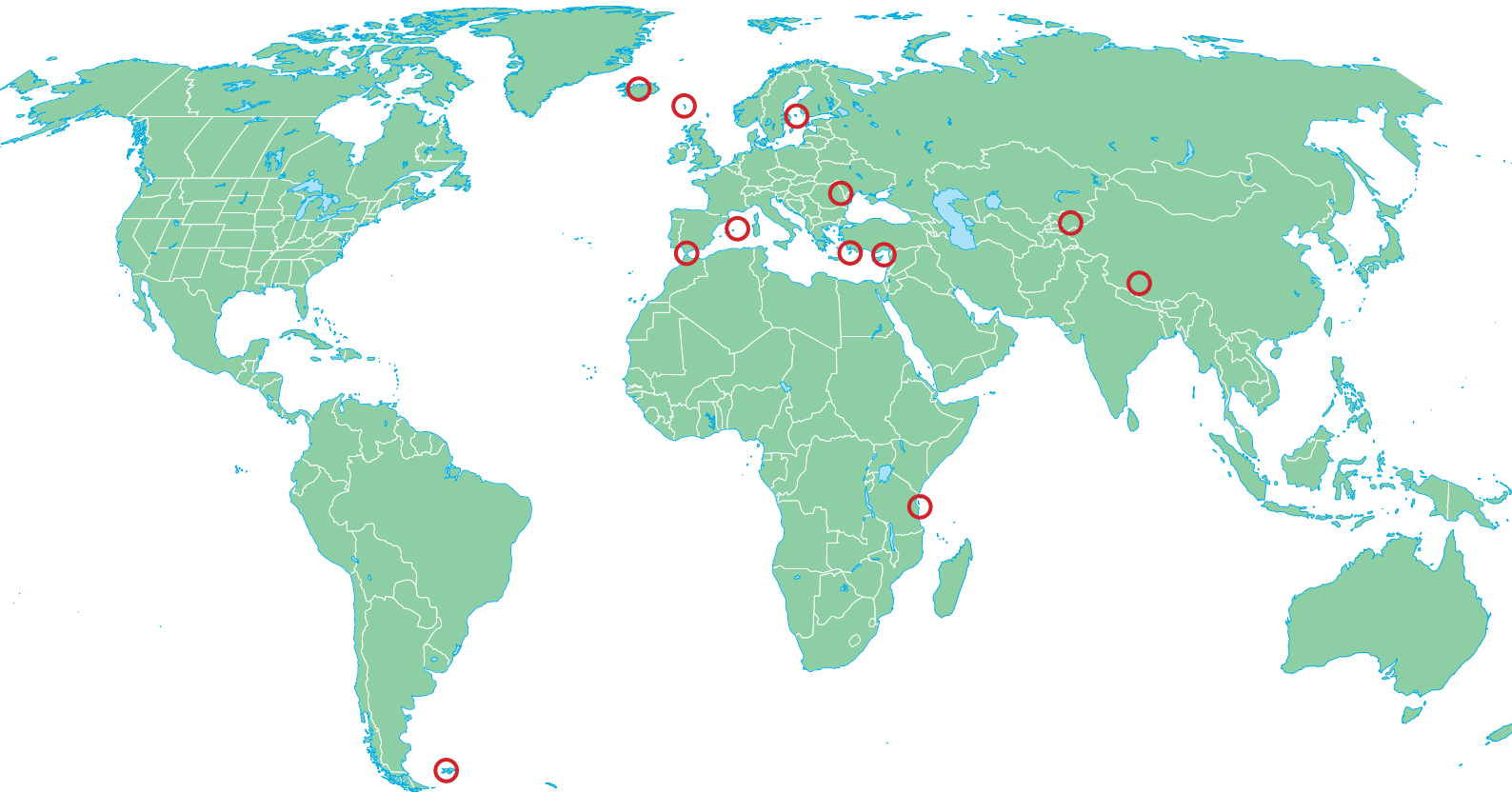


ELEV A

- Spørg din kammerat om, hvor disse øer er og sæt det rigtige tal ved ringene på kortet:
1 Shetland · 2 Ynys Môn · 3 Isle of Wight · 4 Jersey · 5 Guernsey · 6 Frøya · 7 Gotland
8 Saaremaa · 9 Alderney · 10 Sark · 11 Orkney · 12 Western Island

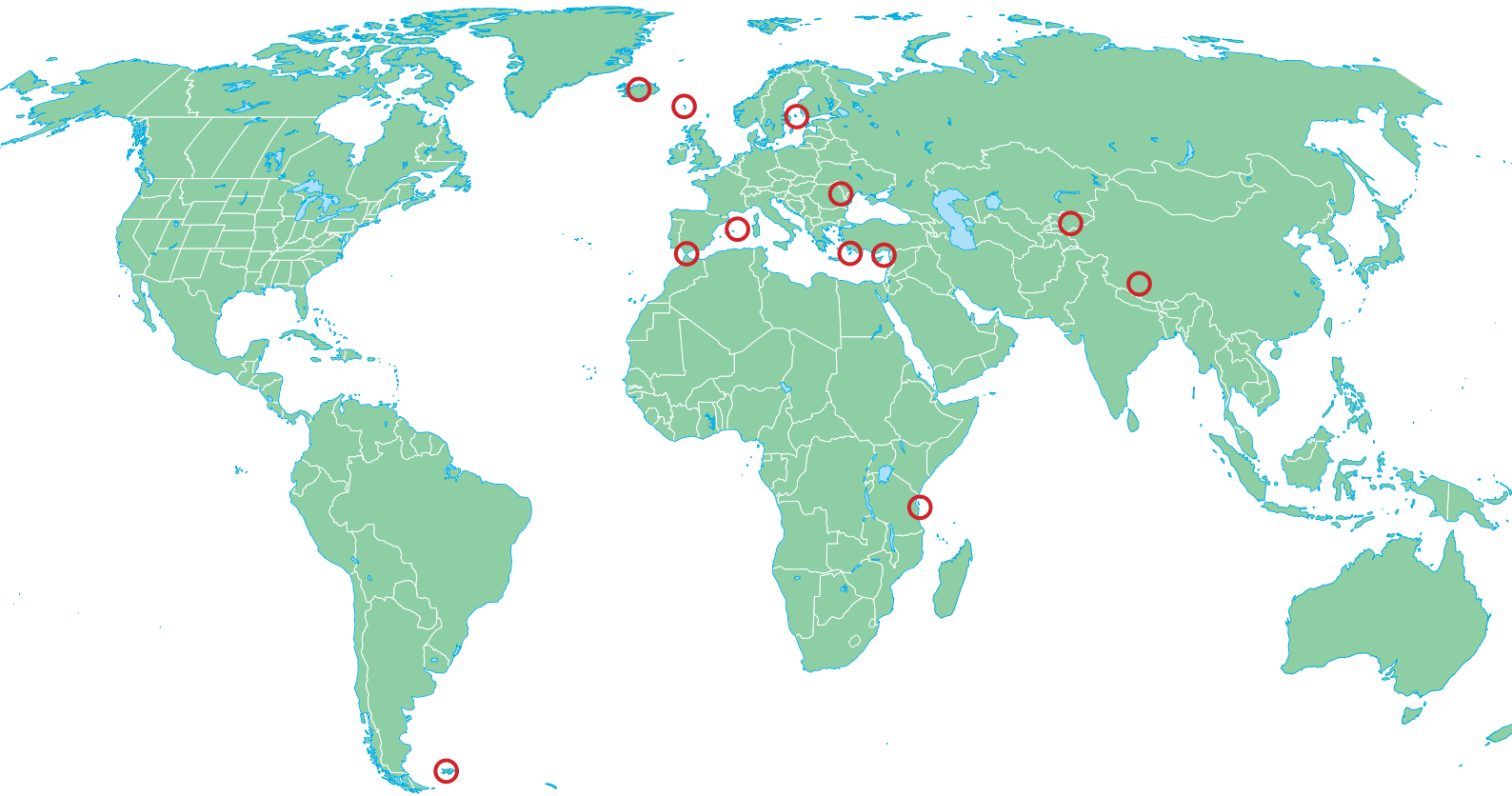


- Find på internettet eller i et atlas følgende øer og lande og sæt det rigtige tal ved ringene på kortet:
13 Island · 14 Åland · 15 Færøerne · 16 Gibraltar · 17 Rhodos · 18 Falkland Islands
19 Menorca · 20 Zanzibar · 21 Nord Cypern · 22 Kyrgyzstan · 23 Gagauzia · 24 Tibet.
Du skal fortælle din kammerat, hvor disse øer og lande ligger.



ELEV B

- Spørg din kammerat om, hvor disse øer er og sæt det rigtige tal ved ringene på kortet:
13 Island · 14 Åland · 15 Færøerne · 16 Gibraltar · 17 Rhodos · 18 Falkland Islands
19 Menorca · 20 Zanzibar · 21 Nord Cypern · 22 Kyrgyzstan · 23 Gagauzia · 24 Tibet.



- Find på internettet eller i et atlas følgende øer og lande og sæt det rigtige tal ved ringene på kortet:
1 Shetland · 2 Ynys Môn · 3 Isle of Wight · 4 Jersey · 5 Guernsey · 6 Frøya · 7 Gotland
8 Saaremaa · 9 Alderney · 10 Sark · 11 Orkney · 12 Western Island
Du skal fortælle din kammerat, hvor disse øer og lande ligger.



TURNERINGER FOR BØRN OG UNGE SIDE 20

Se på www.arcticwintergames.org

- Hvilke placeringer fik Grønland i fodbold til sidste Arctic Winter Games?

Ældre drenge: _____

Yngre drenge: _____

Ældre piger: _____

Yngre piger: _____

VERDENS BEDSTE SIDE 31

- Hvilket land har været verdensmestre flest gange?

FODBOLDFORKORTELSER

- Hvad betyder følgende forkortelser?

GM _____

VM _____

EM _____

DM _____

UEFA _____

FIFA _____

De to sidste kan du google på internettet.



FODBOLDUDSTYR

- Sæt pile til de rigtige ting på drengen.

Nummer

Trøje

Shorts

Benskiner

Strømper

Fodboldstøvler

